





புலமைக்கதிர்



புதிய பாடத்திட்டம் - 2020

சுற்றாடல்

நேரம்:- 01.00மணி

1. பின்வருவனவற்றில் கொத்துக்களாகப் பூக்கும் பூவல்லாதது,
 1. சூரியகாந்தி
 2. தொட்டாற்சினுங்கி
 3. எட்டிதழ்ப்பூ
2. புரட்டாதி மாதத்தில் பூக்கும் பூவொன்று
 1. பிறைப்பூ
 2. வாகைப்பூ
 3. வெசாக்பூ
3. இலங்கைக்கே உரிய முலையூட்டி எது?
 1. புலி
 2. சிங்கம்
 3. சுண்டெலி
4. தாவர இலையினில் முட்டையிடும் பிராணி எது?
 1. தவளை
 2. வண்ணத்துப்பூச்சி
 3. தேரை
5.  உருவிலுள்ள தாவரத்தின் பெயர் யாது?
 1. வாழை
 2. நன்னாரி
 3. இஞ்சி
6. வெப்பத்தினால் விரிவடையும் பதார்த்தம் / பதார்த்தங்கள் எவை?
 1. வாயு
 2. திரவம், வாயு
 3. திண்மம், திரவம், வாயு
7. ஓட்டவீரர் ஒருவர் ஓடத்தொடங்கும் முன்னர் செய்ய வேண்டியது?
 1. சிறிதளவு நீர் பருகுதல்
 2. உடலை நீரினால் கழுவுதல்
 3. கை,கால்களை அசைத்துப்பயிற்சி செய்தல்
8. இலங்கையின் முதலாவது குளத்தை கட்டிய மன்னன்?
 1. மகாசேனன்
 2. பண்டுக்காபயன்
 3. என்னாளன்
9.  பயிர்களை வளர்ப்பதற்கு தயாரிக்கப்பட்ட இச்சாடி எதனால் செய்யப்பட்டுள்ளது?
 1. தேங்காய் மட்டை
 2. பழைய தயிர்சட்டி
 3. பலகைத்துண்டு



10. சுதந்திர போராட்டத்தின் தளபதியாக இருந்த கொங்காலே கொட பண்டா என்பவரது

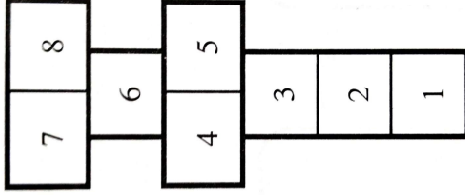
இயற்பெயர் / மறுபெயர்?

1. திசாவை 2. மொனரா 3. தாவீது

11. பாற்பண்ணையுடன் கூடிய பாற்தொழிற்சாலை அமைந்துள்ள இடம்

1. அம்பேவேல 2. மருதனார்மடம் 3. மட்டக்களப்பு

12. பின்வரும் விளையாட்டின் பெயர் எவ்வாறு அழைக்கப்படும் ?



1. கிளித்தட்டு
2. பல்லாங்குழி
3. கட்டம் தாண்டல்

13. இலங்கை அரசாங்க இலட்சிணையில் நெற்கதிர் குறித்து நிற்பது?

1. நிலைத்திருத்தல் 2. சௌபாக்கியம் 3. தன்னிறைவு

14. தாவரங்களின் வளர்ச்சி நடைபெறும் பிரதான தாவரப்பகுதி

1. நுனியரும்பு 2. தண்டு 3. பூ

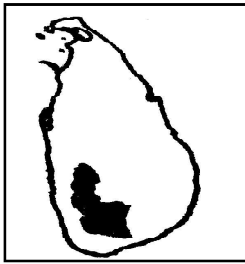
15. இலங்கையில் 2019ம் ஆண்டு விஷேட பத்து ரூபா நாணயக் குற்றிகளை வெளியிட்ட அரசு நிறுவனம்?

1. ஆட்பதிவுத்திணைக்களம் 2. இலங்கை மத்திய வங்கி 3. சுங்கத்திணைக்களம்

16. குடம், சட்டி, பாணை என்பன உருண்டு விழாமல் அடியில் வைக்கும் பொருள்?

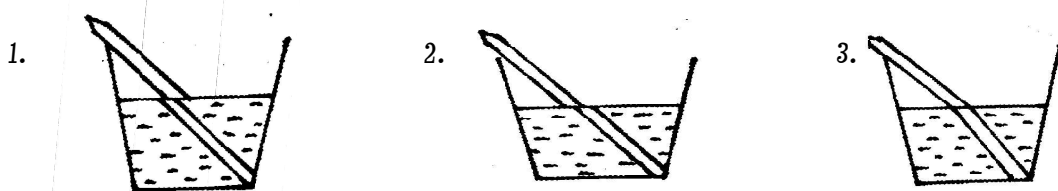
1. சும்மாடு 2. அங்குசம் 3. குடவை

17. இலங்கைப்படத்தில் நிறந்தீட்டப்பட்ட மாகாணம் எது?



1. மேல்மாகாணம்
2. ஊவாமாகாணம்
3. சப்ரகமுவமாகாணம்

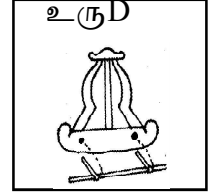
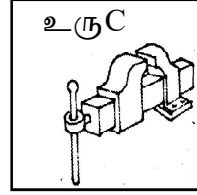
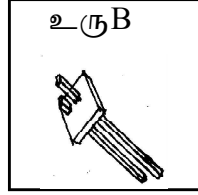
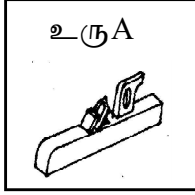
18. ஒளிமுறிவைக் காட்டும் சரியான படம் பின் வருவனவற்றுள் எது?



19. கொட்டுவதன் மூலம் ஒலி எழுப்பமுடியாத வாத்தியம் எது?

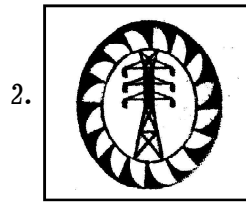
1. நாதஸ்வரம் 2. மேளம் 3. தம்பட்டம்

20. தச்சன் பயன்படுத்தும் உபகரணம் உபகரணங்களைக் காட்டும் காட்டும் விடையைத் தெரிவு செய்க?



1. A மட்டும் 2. B மட்டும் 3. Aயும் , Bயும்

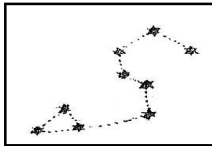
21. இலங்கை மின்சார சபையைக் குறிக்கக் குறியீடு எது?



22. எமது உடற் சமநிலையைப் பேணுவது எது?

1. நீர் 2. இலிப்பிட்டு 3. மாப்பொருள் 4. உணவு

23. படத்தில் காட்டப்பட்டுள்ள உடுத்தொகுதி குறிப்பது,



1. வேட்டைக்காரன்
2. சிம்மம்
3. விருச்சியம்

24. இலங்கையை இறுதியாக தமது ஆதிக்கத்தின் கீழ் கொண்டு வந்த அன்னியநாட்டவர் யார்?

1. ஒல்லாந்தர் 2. அங்கிலேயர் 3. சீனர்

25. அரியத்தினூடாக வெள்ளொளி படும் போது தோன்றுவது

1. வானவில் நிறங்கள்
2. வீதி சமிக்ஞை நிறங்கள்
3. வெள்ளொளி

26. கண்ணுக்குத் தெரியாத பொருட்களை அவதானிக்கப் பயன்படுவது?

1. கண்வில்லை 2. கைவில்லை 3. நுணுக்குக்காட்டி

27. அடர்த்தியை அளக்கப் பயன்படும் மானி எது?

1. வோல்ட்மானி 2. அம்பியர் மானி 3. நீர்மானி



28. மின்குமிழில் அடைக்கப்பட்டிருக்கும் வாயு எது?

1. ஆகன் 2. ஒட்சிசன் 3. பொசுப்பேற்று

29. மட்பாத்திரங்களைச் சுத்தப்படுத்த மிகவும் பொருத்தமானது எது?

1. சவர்க்காரம் 2. சாம்பல் 3. பழப்புளி

31. இலங்கைக்கு மேற்கே அமைந்துள்ள நாடு எது?

1. மலேசியா 2. ஆபிரிக்கா 3. இந்தியா

32. மீனின் சுவாச உறுப்பு எது?

1. பூ 2. செட்டை 3. வால்

33. உறிஞ்சிகள் மூலம் புதிய கன்றுகளை பெறும் தாவரம்,

1. வல்லாரை 2. மிளகாய் 3. அன்னாசி

34. மண்ணில் காணப்படும் மரக்கட்டைகள், தடிகள், குச்சிகள் போன்ற பொருட்களை உக்கலடையச் செய்வது எது?

1.  2.  3. 

35. பின்வருவனவற்றில் வெள்ளை நிறப்பூவையுடைய தாவரம் எது?

1. மிளகாய் 2. சுத்தரி 3. வெண்டி

36. வெப்பகாலங்களில் நீர்நிலையை அதிகம் நாடும் பிராணி எது?

1. பூனை 2. காகம் 3. எருமை

37. குழு விளையாட்டில் அடங்காதது?

1. குண்டுபோடுதல் 2. கரப்பந்து 3. காற்பந்து




38. இலங்கையின் தேசிய சின்னம் அல்லாதது?

1. பண்டா 2. காட்டுக்கோழி 3. நாகமரம்

39. நாக்கின் உதவியுடன் பூச்சிகளைப் பிடித்து உண்பது,

1. முதலை 2. பல்லி 3. உடும்பு

40. இலங்கை அரசுக்கு சொந்தமான பொருட்களில் பொறிக்கப்பட்டிருக்கும் சின்னம் எது?

1.  2.  3. 

- நன்றி -

- வீட்டிலிருந்து சுயமாகக் கற்றுப் பயன் பெறுக -

